

**Олимпиада школьников по географии**  
**Задания муниципального этапа для 11 класса**  
**в 2025/2026 учебном году**

Уважаемый участник олимпиады! Вашему вниманию предлагаются задания тестового и теоретического туров, на выполнение которых отводится 180 минут (на тестовый тур – 60 минут и теоретический – 120 минут).

Тестовый тур включает 30 вопросов, каждый из которых содержит один или несколько элементов ответов и оценивается определенным количеством баллов (от 0,5 до 1 баллов). Общая оценка ответов на вопросы тестового тура представляет собой сумму баллов за отдельный вопрос и максимально составляет 30 баллов.

Теоретический тур включает 5 заданий различной степени сложности. Каждый элемент заданий оценивается определенным количеством баллов (от 1 до 3 баллов). Максимальное количество баллов за правильные ответы составляет 70 баллов.

При ответах на вопросы тестового тура и заданий теоретического тура запрещается пользоваться географическими картами, атласами, словарями и справочными материалами.

**Тестовый тур**

1. Кто из исследователей совершил три путешествия в центральную Африку, установил, что озеро Танганьика не принадлежит системе р. Нил, открыл озеро Альберт-Эдуард, верхнее течение р. Конго и др.?

- а) А. Янсон
- б) Г. Стэнли
- в) Ф. Нансен
- г) А. Тасман

2. Если в именованном масштабе, расстояние дано в метрах, то сколько к нему нужно добавить нулей, чтобы перевести в численный?

- а) 0
- б) 00
- в) 000
- г) 0000

3. Как называется тип проекции, которая правильно передает соотношение площадей, но сильно искажает углы и формы?

- а) цилиндрическая
- б) азимутальная
- в) коническая
- г) равновеликая

4. На каких высотах формируются кучевые облака?

- а) до 2 км
- б) от 5 до 7 км
- в) от 10 до 15 км
- г) более 25 км

5. Какие полезные ископаемые являются нерудными?

- а) марганец
- б) алюминий
- в) фосфориты
- г) гранит

6. Как называется верхняя часть верхней мантии, по которой движутся литосферные плиты?

- а) астеносфера
- б) спрединг
- в) коллизия
- г) субдукция

7. Докембрийский фундамент (архейский или протерозойский) имеют древние платформы

- а) Австралийская
- б) Африкано-Аравийская
- в) Туранская
- г) Западно-Сибирская

8. Длина каких рек изменится, если уровень Мирового океана понизится на 100 м?

- а) Миссисипи
- б) Волга
- в) Сырдарья
- г) Амударья

9. Красные ферралитные почвы образуются в природной зоне

- а) влажных экваториальных лесов
- б) степи
- в) полупустыни
- г) тундры

10. Самый крупный природный комплекс на Земле

- а) материки
- б) океаны
- в) географическая оболочка
- г) природные зоны

11. К опасным атмосферным явлениям относятся

- а) засухи, суховеи, ураганы, гололед, смерчи
- б) сели, обвалы, оползни, лавины
- в) землетрясения
- г) вулканы

12. Какой из океанов является самым теплым?

- а) Тихий
- б) Индийский
- в) Северный Ледовитый
- г) Атлантический

13. Найдите ошибку в перечне столиц государств – бывших колоний Великобритании?

- а) Дели
- б) Исламабад
- в) Дакка
- г) Пномпень

14. Укажите крупнейшую агломерацию Азии?

- а) Шанхайская
- б) Пекинская
- в) Токийская
- г) Бомбейская

15. Какое из перечисленных государств по форме государственного территориального устройства является унитарным?

- а) Швейцария
- б) Бельгия
- в) Австрия
- г) Испания

16. Определите регион России по его краткому описанию.

Эта территория расположена в европейской части страны и имеет выход к государственной границе. Большая часть ее территории расположена за Северным полярным кругом. Гласное природное богатство – значительные запасы железных руд, руд цветных металлов и апатитов. На ее территории находится незамерзающий морской порт. Кроме промышленности большое значение имеют морское рыболовство и рыбоводство. Большая часть электроэнергии на территории производится на крупной атомной электростанции.

17. Какие из городов являются столицами государств Азии?

- а) Тунис
- б) Астана
- в) Бомбей
- г) Ханой

18. В какой стране для перевозки пассажиров между крупными городами используется высокоскоростная сеть железных дорог «Синкансен»?

- а) Япония
- б) Южная Корея
- в) Северная Корея
- г) Китай

19. Укажите ошибку в перечне городов-портов Европы?

- а) Роттердам
- б) Варшава
- в) Гамбург
- г) Марсель

20. Большую часть территории плоскогорья Декан занимает природная зона

- а) саванн и редколесий
- б) степей и лесостепей
- в) полупустынь и пустынь
- г) влажных экваториальных лесов

21. Какой из перечисленных видов хозяйственной деятельности человека защищает почвы от ветровой эрозии?

- а) создание защитных лесополос
- б) продольная распашка склонов
- в) перевыпас скота
- г) вырубка деревьев в верховьях и на склонах долин рек

22. Какая из перечисленных стран находится в пределах «оловянного пояса»?

- а) Малайзия
- б) США
- в) Египет
- г) Франция

23. Какие две из стран являются лидерами по добыче каменного угля?

- а) Китай
- б) США
- в) Ливия
- г) Казахстан

24. Каждый год с поверхности Земли исчезает примерно 25 млн. м<sup>2</sup> пахотного слоя почвы. Наблюдения показали, что уменьшение мощности этого слоя на 10 см снижают урожай на 52%. Какие из природных и антропогенных факторов влияют на развитие этих процессов на Земле. Назовите по одному.

25. Туристы из России желают посетить национальный парк Вуд-Баффало и своими глазами увидеть настоящих бизонов. В какую страну им необходимо взять билет, чтобы отправиться в путешествие?

- а) Канада
- б) США
- в) Бразилия
- г) Мексика

26. Определите, в каких природных зонах могли быть сделаны фотографии А и Б?



А



Б

27. Какой из промышленных центров расположен за пределами Северного промышленного пояса США?

- а) Бостон
- б) Детройт
- в) Чикаго
- г) Хьюстон

28. Определите государство мира по его краткому описанию.

Государство в юго-восточной части Южной Америки, граничащее с Бразилией на севере и Аргентиной на западе. Это унитарная президентская республика с населением около 3,4 миллиона человек и испанским языком как официальным. Страна известна своей стабильностью, демократией, развитой экономикой (особенно в сфере банковского дела), а также как популярное туристическое направление с пляжными курортами и богатой культурой. Климат на территории страны умеренный, субтропический. Лето (декабрь – февраль) теплое, зима (июнь – август) мягкая, с возможностью снегопадов при вторжении холодных ветров.

Экономически развитая страна, с развитым банковским сектором, за что страну иногда называют «латиноамериканской Швейцарией». Государство считается одной из самых демократичных, безопасных и прогрессивных стран Латинской Америки. Страна стала второй в мире после провозглашения обязательного и бесплатного образования. Сельскохозяйственные земли занимают около 9/10 территории страны, из них пастбища занимают около 14 миллионов гектаров. Развито животноводство экспортного направления – разведение мясных пород крупного рогатого скота и шёрстных овец. Главные сельскохозяйственные культуры: пшеница, рис, сахарный тростник, кукуруза, масличный лен, подсолнечник, кормовые травы для скота. Выращивают также виноград и цитрусовые.

29. Прочтите текст и по краткому описанию определите тип климата (а) и где на территории России он представлен (б)?

На территории теплая зима от +1°C до + 6°C; лето жаркое, средняя температура доходит до +22°C – +26°C; осадков выпадает от 600 до 1000 мм/год, преимущественно в зимнее время.

30. Прочтите текст и по описанию определите страну.

Страна расположена на севере Южной Америки, омывается Карибским морем и Атлантическим океаном. Граничит с Колумбией, Бразилией и Гайаной. Имеет разнообразный рельеф: горы на западе, равнины, часть бассейна Амазонки на юге, и обширное побережье Карибского моря. Богатство природы включает высочайшие водопады, тропические леса, джунгли и множество островов. Также имеются живописные пляжи и уникальные экосистемы.

Основная отрасль страны – нефтедобыча, где страна занимает лидирующее место по доказанным запасам нефти в мире. Также имеются значительные запасы газа, железной руды, угля и других полезных ископаемых. Население страны около 31 миллиона человек. Большую часть населения составляют католики, но также есть протестанты, атеисты и приверженцы других религий. Уровень урбанизации высокий, более 90% населения проживает в городах.



## Теоретический тур

### Задание 11.1

Рассмотрите космоснимки и фотографии островов и ответьте на вопросы, заполнив таблицу 11.1.

1. Как называются острова, обозначенные буквами а, б, в, г, д, е, ж, з, и, к?
2. Какие из островов расположены на материковой отмели (назовите их по обозначенной букве)?
3. Назовите остров находящийся в районе расхождения литосферных плит.
4. Каково происхождение островов д, е, ж, з, и (назовите их по обозначенной букве), где они расположены (на территории каких государств)?


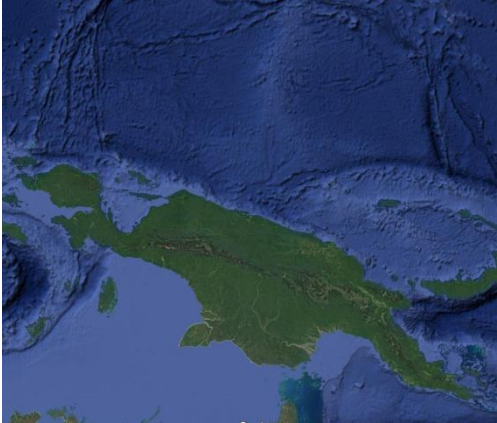




		
а	б	в
		
г	д	е



Таблица 11.1

Вопросы	Ответы
1. Как называются острова, обозначенные буквами а, б, в, г, д, е, ж, з, и, к?	а –
	б –
	в –
	г –
	д –
	е –
	ж –
	з –
	и –
2. Какие из островов расположены на материковой отмели (назовите их по обозначенной букве)?	
3. Назовите остров находящийся в районе расхождения литосферных плит	
4. Каково происхождение островов д, е, ж, з, и - назовите их по обозначенной букве), где они расположены (на территории каких государств)?	
	д –
	е –
	ж –
	з –
	и –

### Задание 11.2

Установите соответствие между понятиями стадий экономической интеграции и их определением, заполните таблицу 11.2.

Понятия	Определения
1. Преференциальная зона	а) Объединение стран, предполагающее установление единых торговых тарифов в отношении третьих стран.
2. Зона свободной торговли	б) Объединение стран с целью устранения таможенных пошлин и количественных ограничений во взаимной торговле, но с сохранением их самостоятельности в проведении внешней торговой политики.
3. Таможенный союз	в) Объединение стран со свободным перемещением капиталов, товаров, услуг, трудовых ресурсов и единых тарифов в отношении третьих стран и введение единой валюты.
4. Общий рынок	г) Объединение стран на основе существования единого валютного, экономического и политического союза, проведения общей внешней политики, введения единого гражданства и ликвидации государственных границ.
5. Экономический союз	д) Страны заключают определенные торговые договоренности, которые предполагают снижение или отмену таможенных пошлин на ввозимые товары.
6. Полная интеграция	е) Объединение стран со свободным перемещением капиталов, товаров, услуг, трудовых ресурсов и единых тарифов в отношении третьих стран.

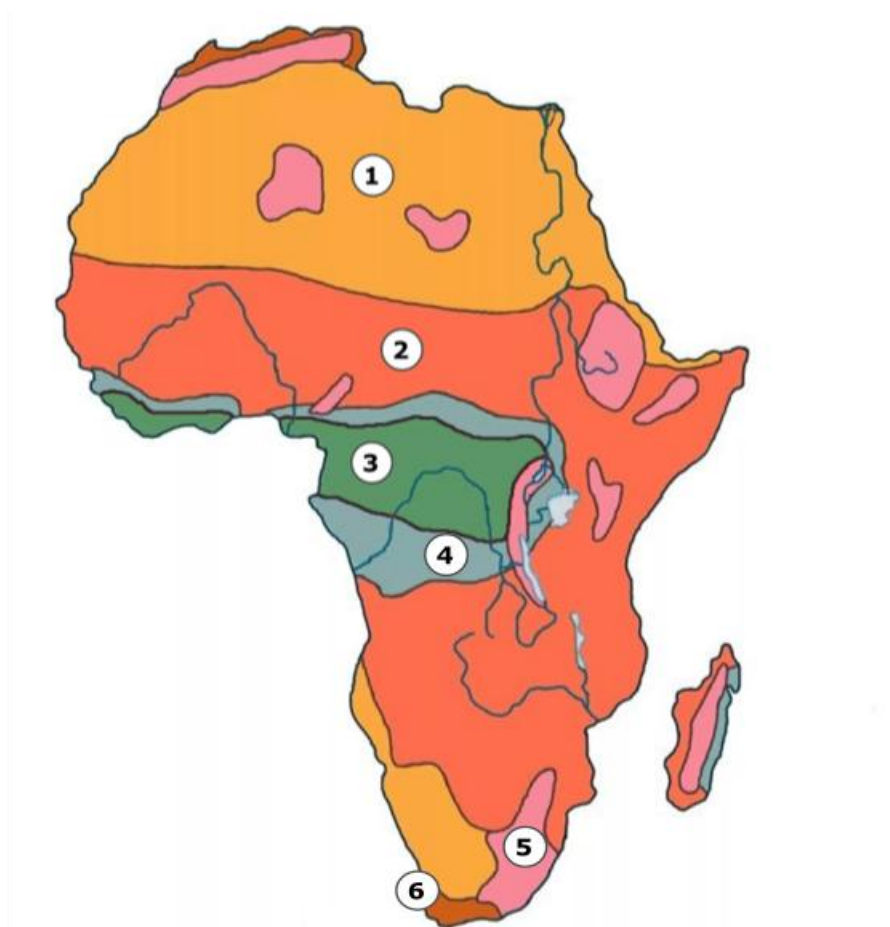
Таблица 11.2

Вопрос	Установите соответствие между понятием и его определением					
Понятия (цифры)	1	2	3	4	5	6
Определения (буквенные обозначения)						

### Задание 11.3

Внимательно рассмотрите карту Африки и ответьте на вопросы, заполнив таблицу 11.3.

1. Как называются объекты обозначенные на карте цифрами 1, 2, 3, 4, 5, 6 и назовите их?
2. Из набора фотографий 11.3 выберите представителей животного мира, встречающихся на объектах 1, 2, 3 и укажите название каждого животного.



Фотографии 11.3



а)



б)




в)



г)



д)



е)






Таблица 11.3

Вопрос	Ответ
1. Как называются объекты, обозначенные на карте цифрами 1, 2, 3, 4, 5, 6, и назовите их?	1.
	2.
	3.
	4.
	5.
	6.
2. Из набора фотографий 9.3 выберите представителей животного мира, встречающихся на объекте 1, 2 и 3 и укажите название каждого животного.	1.
	2.
	3.

### Задание 11.4

Определите названия географических объектов обозначенных на карте цифрами и запишите в таблице 11.4

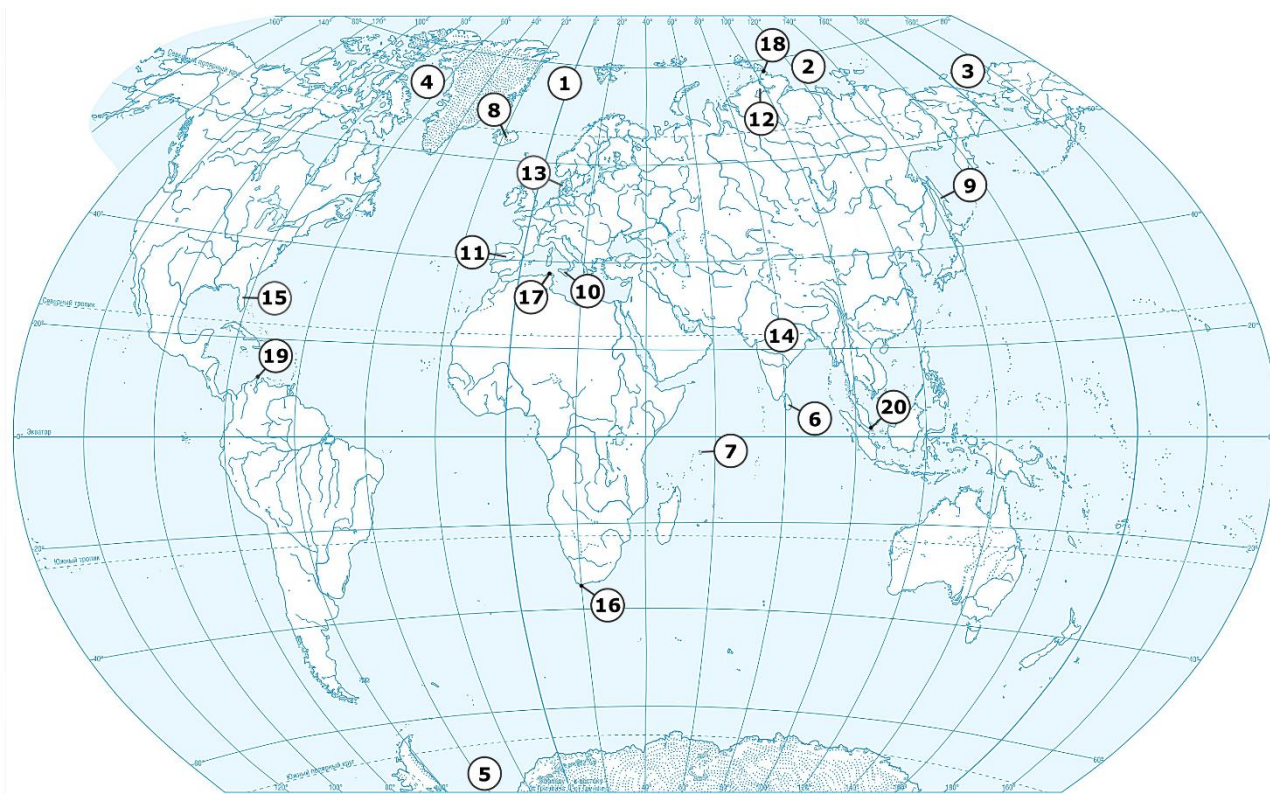


Таблица 11.4

№ п/п	Географический объект и его название	№ п/п	Географический объект и его название
1	море	11	полуостров
2	море	12	полуостров
3	море	13	полуостров
4	море	14	полуостров
5	море	15	полуостров
6	остров	16	мыс
7	острова	17	мыс
8	остров	18	мыс
9	остров	19	мыс
10	остров	20	мыс



### Задание 11.5

На представленном космоснимке цифрой **1** обозначена пустыня. Рассмотрите внимательно космоснимок и ответьте в таблице 11.5 на следующие вопросы:

1. Как называется эта пустыня и что означает ее название?
2. На каком материке и в пределах какой страны она располагается?
3. Какие географические объекты обозначены буквами А, Б, В, Г, Д?
4. К какому типу пустынь она относится?
5. Какое географическое положение пустыни делает ее одним из самых засушливых мест на планете?
6. Какой абсолютный максимум температуры на поверхности Земли был зафиксирован на территории пустыни?
7. Охарактеризуйте особенности показателей климата пустыни?



Таблица 11.5

Вопросы	Ответы
1. Как называется эта пустыня и что означает ее название?	
2. На каком материке и в пределах какой страны она располагается?	
3. Какие географические объекты обозначены буквами А, Б, В, Г, Д, Е?	А – Б – В – Г – Д – Е –
4. К какому типу пустынь она относится?	
5. Какое географическое положение пустыни делает ее одним из самых засушливых мест на планете?	
6. Какой абсолютный максимум температуры на поверхности Земли был зафиксирован на территории пустыни?	
7. Охарактеризуйте особенности показателей климата пустыни.	