

**Олимпиада школьников по географии**  
**Задания муниципального этапа для 10 класса**  
**в 2025/2026 учебном году**

Уважаемый участник олимпиады! Вашему вниманию предлагаются задания тестового и аналитического раундов, на выполнение которых отводится 180 минут (на тестовый тур – 60 минут и теоретический – 120 минут).

Тестовый тур включает 30 вопросов, каждый из которых содержит несколько элементов ответов и оценивается определенным количеством баллов (от 0,5 до 1 баллов). Общая оценка ответов на вопросы тестового тура представляет собой сумму баллов за отдельный вопрос и максимально составляет 30 баллов.

Теоретический тур включает 5 заданий различной степени сложности. Каждый элемент заданий оценивается определенным количеством баллов (от 0,5 до 4 баллов). Максимальное количество баллов за правильные ответы составляет 70 баллов.

При ответах на вопросы тестового тура и заданий теоретического тура запрещается пользоваться географическими картами, атласами, словарями и справочными материалами.

**Тестовый тур**

1. Кто из исследователей совершил ряд длительных путешествий по Южной и Центральной Африке. Исследовал впадину Калахари, реку Кубанго, бассейн реки Замбези, озеро Ньяса, открыл водопад Виктория и др.?

- а) Д. Левингстон
- б) В. Беринг
- в) Г. Стэнли
- г) Г. Шелехов

2. Чему будет соответствовать на местности расстояние 2 мм по карте масштаба 1:50 000?

- а) 100 м
- б) 1 000 м
- в) 10 м
- г) 400 м

3. Как называется тип проекции, где параллели и меридианы – взаимно перпендикулярные линии

- а) цилиндрическая
- б) равновеликая
- в) коническая
- г) азимутальная

4. Сколько времени на Антарктической станции «Мирный», когда в Москве 13 часов, если пользоваться временем часовых поясов России?

- а) 17:00
- б) 18:00
- в) 19:00
- г) 20:00

5. Какие из минералов относятся к каустобиолитам?

- а) нефть
- б) гипс
- в) глина
- г) уголь

6. Какие из платформ имеют древний докембрийский фундамент?

- а) Китайско-Корейская
- б) Скифская
- в) Туранская
- г) Северо-Американская

7. Наиболее сейсмически активной областью Евразии является

- а) Японские острова
- б) Западно-Сибирская равнина
- в) Скандинавский полуостров
- г) Уральские горы

8. На границе литосферных плит находится остров

- а) Мадагаскар
- б) Новая Земля
- в) Гренландия
- г) Суматра

9. К образованию каких форм рельефа на поверхности Земли приводят флювиальные процессы?

- а) речных долин
- б) дюн
- в) бараньих лбов
- г) морен

10. Поверхностные течения Мирового океана зависят от

- а) рельефа дна и очертания материков
- б) постоянных ветров Земли
- в) приливов и отливов
- г) рельефа суши

11. Чем объясняется максимальное на Земле количество солнечной радиации в центральных районах Антарктиды в летнее время?

- а) чистотой и разреженностью воздуха
- б) постоянными ветрами
- в) полярным днем
- г) близостью к солнцу

12. На каких высотах наблюдаются серебристые облака?

- а) 5-10 км
- б) 10-15 км
- в) 15-20 км
- г) 70-80 км

13. Какова обычная высота приливов в открытом океане?

- а) 2 м
- б) 18 м
- в) 12 м
- г) 1 м

14. Из какого населенного пункта нельзя добраться по железной дороге до Москвы?

- а) Анадырь
- б) Владивосток
- в) Сургут
- г) Омск

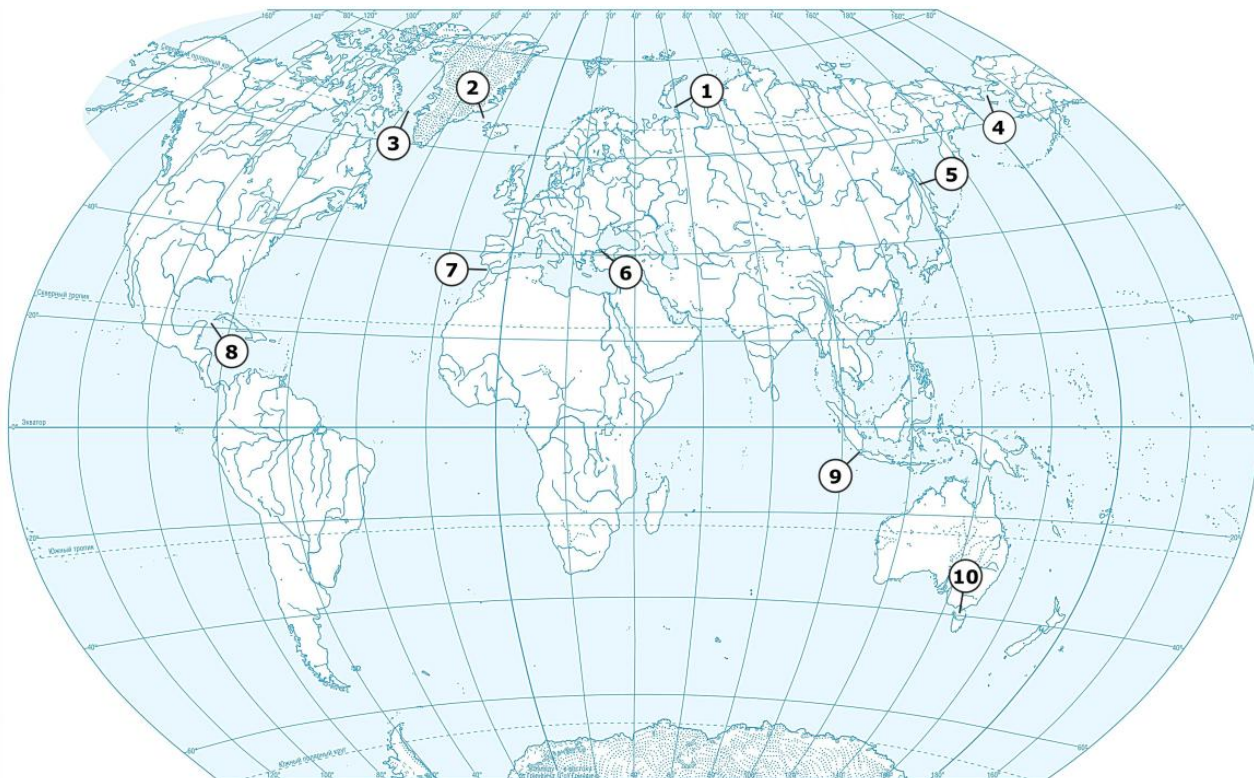
15. Территория какого государства мира расположена ближе всех к Северному полюсу?

- а) Россия
- б) Канада
- в) США
- г) Дания

16. Какое из перечисленных государств в прошлом было колонией Португалии?

- а) Ангола
- б) Чад
- в) Эфиопия
- г) Бруней

17. Выберите правильные соответствия между названием пролива и цифрой, обозначающей его расположение на карте.

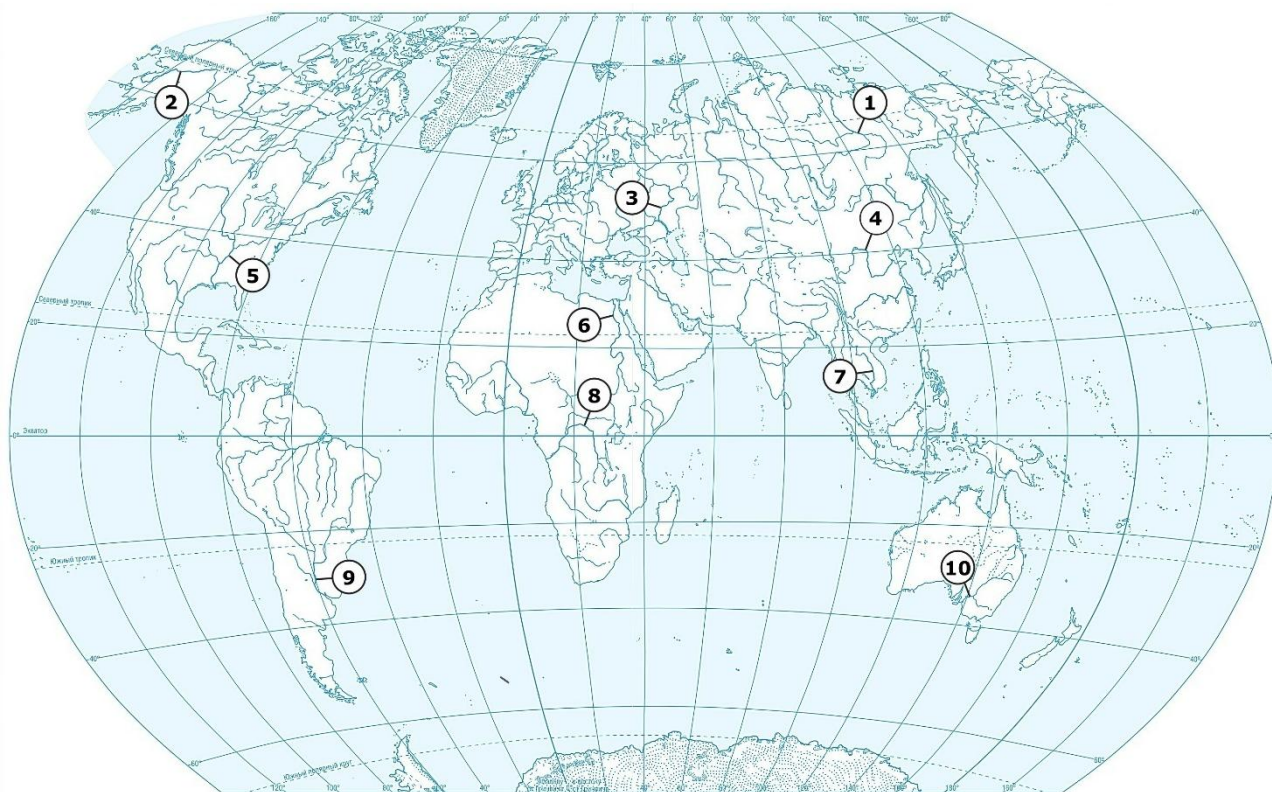


- а) Босфор – 2
- б) Девисов – 3
- в) Зондский – 8
- г) Бассов – 10

18. К какой языковой семье относится наибольшая часть населения стран Восточной Европы?

- а) германской
- б) балтийской
- в) славянской
- г) романской

19. Выберите правильные соответствия между названием реки и цифрой, обозначающей ее расположение на карте.



- а) Юкон – 2
- б) Меконг – 4
- в) Муррей – 5
- г) Парана – 9

20. На климат европейской части России большое влияние оказывают

- а) пассаты
- б) муссоны
- в) западные ветры
- г) северо-восточные ветры

21. Для природы полуострова Таймыр характерно

- а) наличие невысоких гор
- б) распространение серых лесных почв
- в) равнинная территория
- г) степная растительность

22. К бассейну внутреннего стока относится

- а) Охотское море
- б) Каспийское море
- в) Карское море
- г) Белое море

23. Высокие показатели рождаемости характерны для

- а) Республики Карелия
- б) Московская область
- в) Республика Дагестан
- г) Владимирской области

24. Какой из городов России расположен за пределами основной полосы расселения населения?

- а) Архангельск
- б) Воронеж
- в) Чебоксары
- г) Красноярск

25. В субарктическом климатическом поясе господствуют воздушные массы

- а) умеренные летом и арктические зимой
- б) арктические в течение всего года
- в) умеренные в течение всего года
- г) арктические летом и умеренные зимой

26. Горы Бырранга расположены на материке

- а) Евразия
- б) Северная Америка
- в) Южная Америка
- г) Австралия

27. Прочтите текст и по краткому описанию определите тип климата (а) и где на территории России он представлен (б)?

На территории теплое влажное лето ( $+16^{\circ}\text{C}$ ), морозная сухая зима (до  $-25^{\circ}\text{C}$ ). Летом выпадает до 800 мм осадков. В зимнее время господствуют континентальные воздушные массы, в летнее – морские.

28. Определите в каких природных зонах могли быть сделаны фотографии А и Б?



29. Определите регион России по его краткому описанию.

Территория этой республики граничит с одним из европейских государств. Большую часть поступлений в бюджет республики приносит добыча железных руд, лесная, деревообрабатывающая, целлюлозно-бумажная промышленность. Цветная металлургия развита на привозном сырье. На территории республики расположен уникальный историко-архитектурный музей-заповедник.



30. Прочтите текст и определите страну по ее описанию.

Происхождение названия страны связано с одной из крупных рек планеты, 60 % бассейна которой находится в пределах ее территории. В 500 км от устья реки находится столица страны. Ниже по течению река образует серию водопадов, названных в честь знаменитого британского путешественника. Самое необычное население страны проживает в экваториальных лесах, их рост достигает 140-150 см.

### **Теоретический тур**

**Задание 10.1.** Найдите «лишнее» слово в каждой строке. Объясните свой выбор. Ответ запишите в таблицу 10.1.

А) тропик Рака, Южный тропик, Гринвичский меридиан, экватор, Северный полярный круг.

Б) румб, градус, широта, азимут, долгота.

В) холм, высота, сечение горизонталей, бергштрихи, изогипсы.

Г) землетрясение, прилив, цунами, извержение вулкана, фонтанирование гейзера.

Д) Новая Зеландия, Новая Земля, Новая Гвинея, Новый свет, Ньюфаундленд

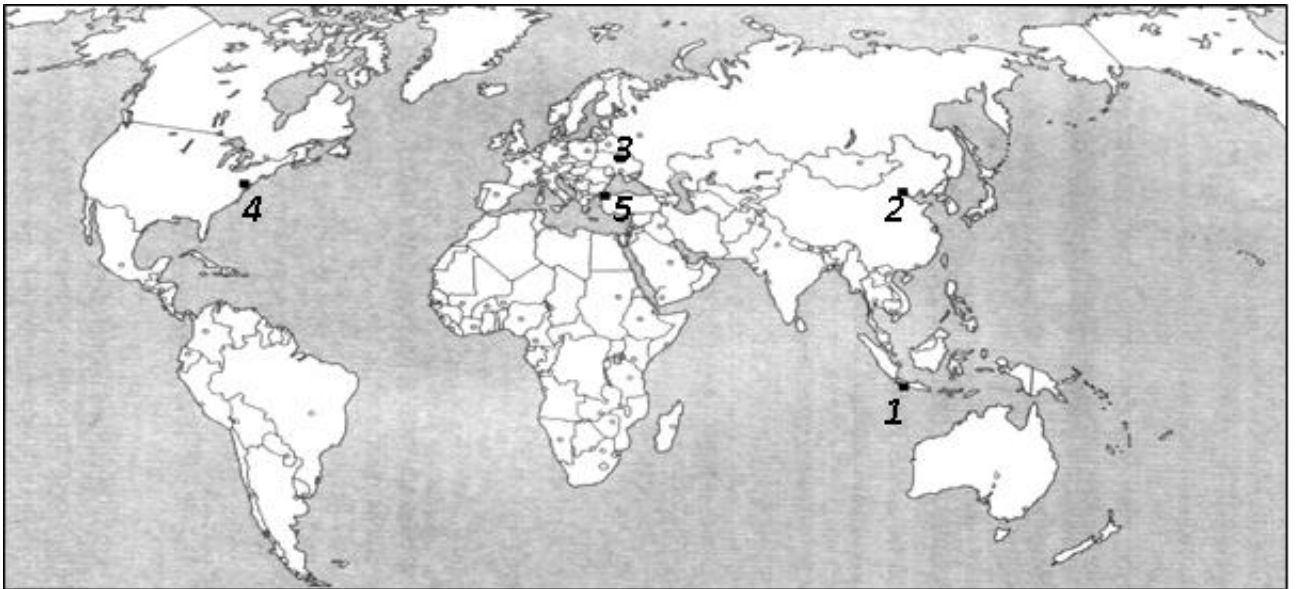
Таблица 10.1

Вопросы	Ответы
А) тропик Рака, Южный тропик, Гринвичский меридиан, экватор, Северный полярный круг	
Б) румб, градус, широта, азимут, долгота	
В) холм, высота, сечение горизонталей, бергштрихи, изогипсы	
Г) землетрясение, прилив, цунами, извержение вулкана, фонтанирование гейзера	
Д) Новая Зеландия, Новая Земля, Новая Гвинея, Новый свет, Ньюфаундленд	

**Задание 10.2.** Одной из важных характеристик народов, проживающих в различных регионах земного шара, является религия. Религия влияет на обычаи, культуру и быт людей, их хозяйственную деятельность.

Вашему вниманию предлагаются изображения пяти культовых (религиозных) сооружений и карта, в которой цифрами отмечено их расположение. Соотнесите название культового сооружения, его изображение и размещение. Ответ запишите в таблицу 10.2.

*Культовые сооружения:* Мечеть султана Ахмеда, Борободур, Софийский собор, Храм Неба (Тяньтань), Собор святого Патрика.








		
<b>А</b>	<b>Б</b>	<b>В</b>
		
<b>Г</b>	<b>Д</b>	

Таблица 10.2

Название культового сооружения	Изображение культового сооружения	Местонахождение
Мечеть Султана Ахмеда		
Борободур,		
Софийский собор		
Храм Неба (Тяньтань)		
Собор святого Патрика		

**Задание 10.3.** Внимательно рассмотрите карту Южной Америки и ответьте на вопросы, заполнив таблицу 10.3:

1. Как называются объекты, обозначенные на карте цифрами 1, 2, 3, 4, 5, 6, 7, 8 и назовите их?

2. Из набора фотографий 10.3 выберите представителей животного мира, встречающихся на объекте 1 и укажите название каждого животного.





Фотографии 10.3




Таблица 10.3

Вопрос	Ответ
1. Как называются объекты, обозначенные на карте цифрами 1, 2, 3, 4, 5, 6, 7, 8 и назовите их?	1.
	2.
	3.
	4.
	5.
	6.
	7.
	8.
2. Из набора фотографий 10.3 выберите представителя животного мира, встречающихся на объекте 1 и укажите название каждого животного.	

**Задание 10.4.** Определите названия географических объектов обозначенных на карте цифрами и запишите в таблице 10.4

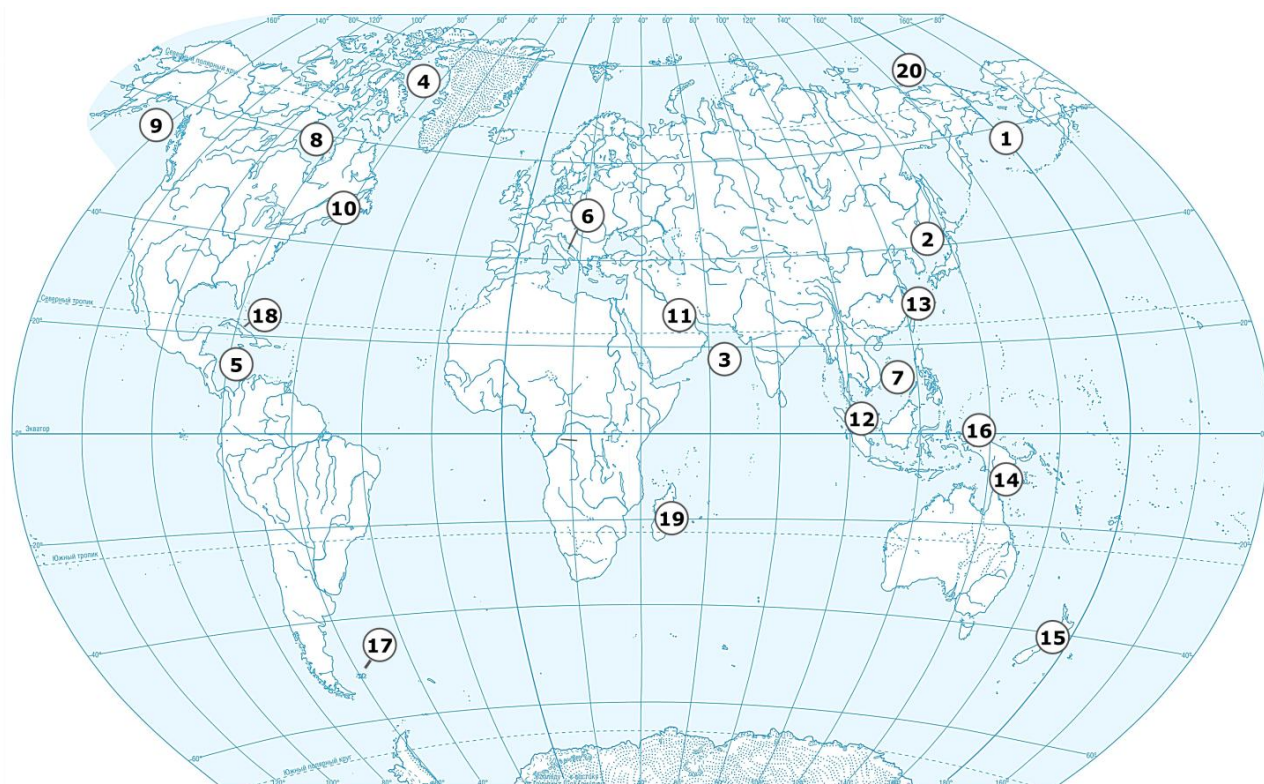


Таблица 10.4

№ п/п	Географический объект и его название	№ п/п	Географический объект и его название
1	море	11	залив
2	море	12	пролив
3	море	13	пролив
4	море	14	пролив
5	море	15	пролив
6	море	16	остров
7	море	17	острова
8	залив	18	остров
9	залив	19	остров
10	залив	20	остров



**Задание 10.5** На представленном космоснимке цифрой **1** обозначена пустыня. Рассмотрите внимательно космоснимок и ответьте в таблице 10.5 на следующие вопросы:

1. Как называется эта пустыня и что означает ее название?
2. На каком материке она располагается и какую площадь занимает?
3. Какое место она занимает в мире по величине площади?
4. К какому типу пустынь она относится и какими типами осадков она сложена?
5. Как называется крупная река, протекающая на западе пустыни?
6. На территории каких стран располагается пустыня?
7. В каком климате расположена пустыня (охарактеризуйте особенности климата)?
8. Какие имеются гипотезы происхождения пустыни?

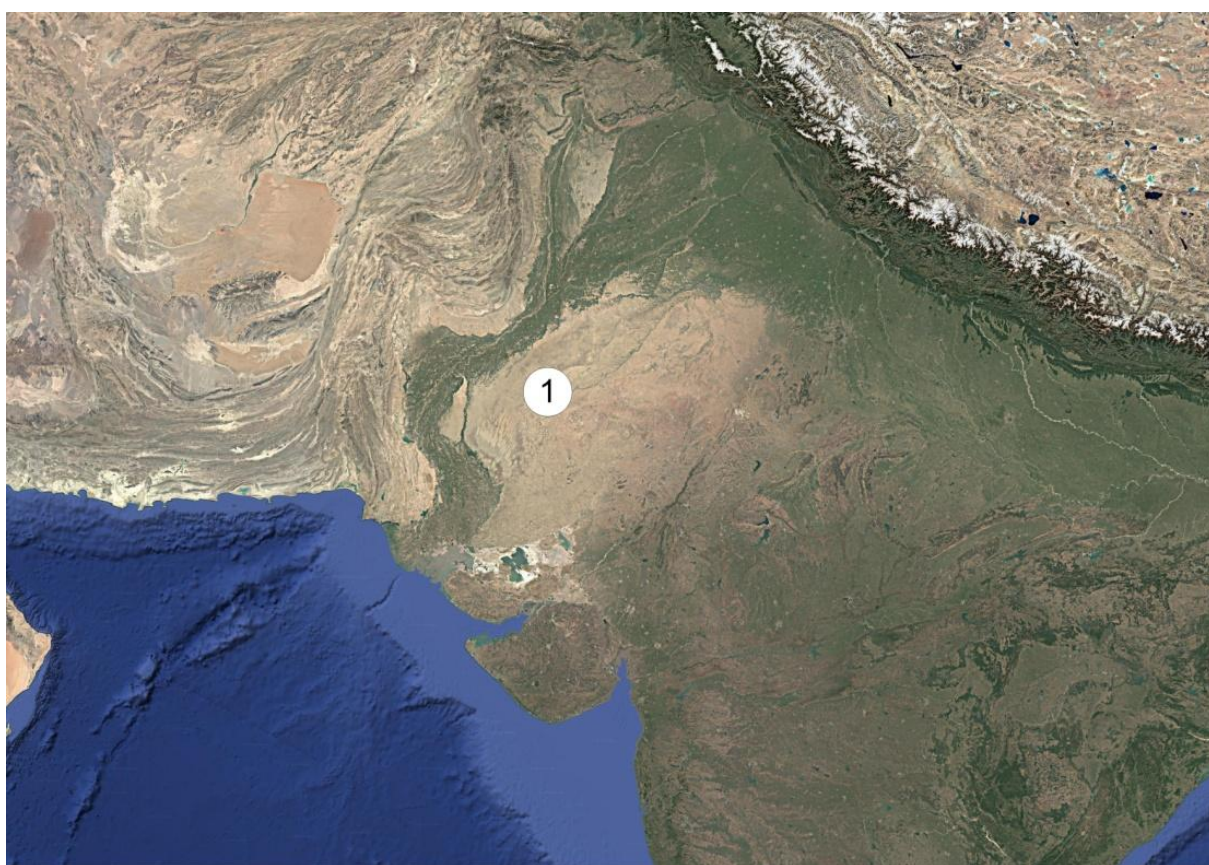


Таблица 10.5

Вопросы	Ответы
1. Как называется эта пустыня и что означает ее название?	
2. На каком материке она располагается и какую площадь занимает?	
3. Какое место она занимает в мире по величине площади?	
4. К какому типу пустынь она относится и какими типами осадков она сложена?	
5. Как называется крупная река, протекающая на западе пустыни?	
6. На территории каких стран располагается пустыня?	
7. В каком климате расположена пустыня (охарактеризуйте особенности климата)?	
8. Какие имеются гипотезы происхождения пустыни?	