

ВСЕРОССИЙСКАЯ ОЛИМПИАДА ШКОЛЬНИКОВ ПО ОСНОВАМ  
БЕЗОПАСНОСТИ ЖИЗНЕДЕЯТЕЛЬНОСТИ  
(МУНИЦИПАЛЬНЫЙ ЭТАП)  
ТЕОРЕТИЧЕСКИЙ ТУР  
возрастная группа (7-8 классы)

МОДУЛЬ 1

ЗАДАНИЕ 1.

Если возможно, то перекрыть газ, если невозможно,  
то выбегаем из квартиры и звоним спасателям, либо  
сообщаем соседям и просим позвонить.

Оценочные баллы: максимальный – 10 баллов; фактический – 6 баллов

Подписи членов жюри

ЗАДАНИЕ 2

Фарикадируем все возможные входы, закрываем  
окна шторами (жалюзи), и собираемся в самый дальний  
угол класса, где рядом нет входов, либо садимся  
под парты.

Оценочные баллы: максимальный – 5 баллов; фактический – 2 баллов

Подписи членов жюри

ЗАДАНИЕ 3

	+		+	
А	Б	В	Г	Д
	1		2	2

Оценочные баллы: максимальный – 10 баллов; фактический – 4 баллов

Подписи членов жюри

#### ЗАДАНИЕ 4

Заполните таблицу «Социальные опасности по природе и форме воздействия на человека»

<i>Примеры</i>	<i>Виды социальных опасностей по природе и форме воздействия на человека</i>
Шантаж, мошенничество, воровство	
Разбой, бандитизм, террор, изнасилование, заложничество	
Наркомания, алкоголизм, курение	
СПИД, венерические заболевания, туберкулез	

Дайте определение

Бандитизму \_\_\_\_\_

\_\_\_\_\_

\_\_\_\_\_

\_\_\_\_\_

\_\_\_\_\_

\_\_\_\_\_

\_\_\_\_\_

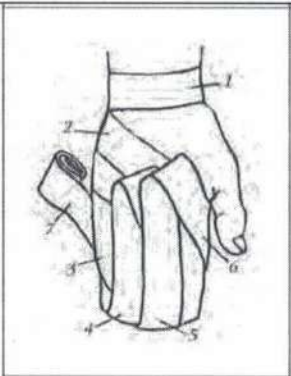
Оценочные баллы: максимальный – 10 баллов; фактический – \_\_\_\_\_ баллов

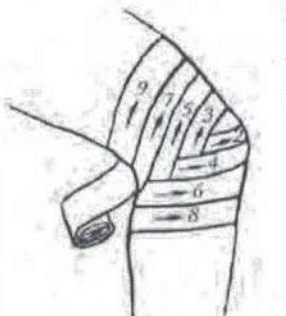
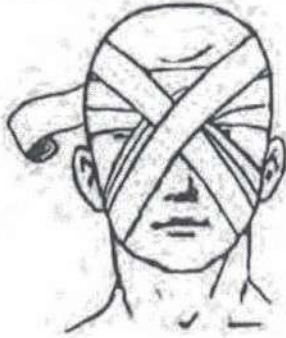
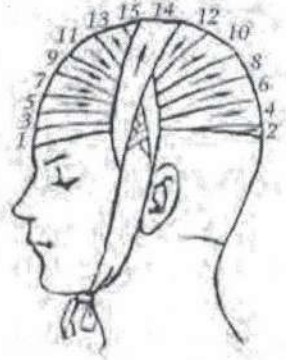
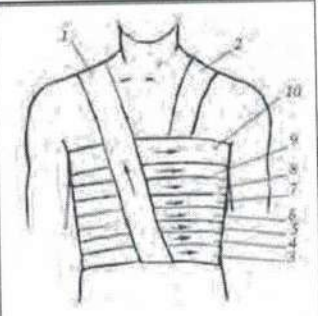
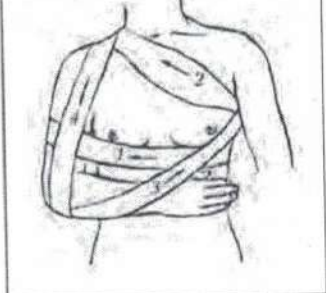
Подписи членов жюри

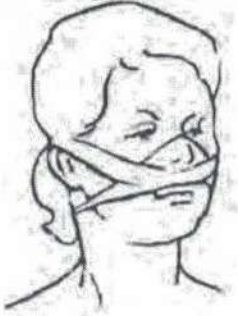
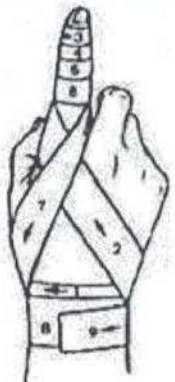
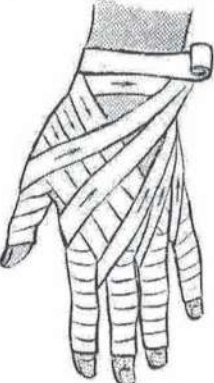
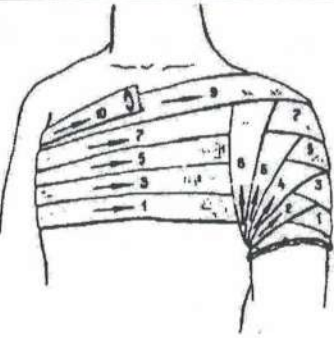
\_\_\_\_\_

#### ЗАДАНИЕ 5

Заполните таблицу «Виды повязок»

№	Рисунок повязки	Название повязки
1		

2		Колленный
3		Повязка на глаза
4		Специальная на голову
5		Спиральная на грудь
6		Перелом руки

7  +		Трещевидная на нос
8  +		Спиральная на палец
9		Россигральная перчатка
10		На плечо

Оценочные баллы: максимальный – 10 баллов; фактический – 3 баллов

Подписи членов жюри

За Модуль 1 – 40 баллов

750.



**МОДУЛЬ 2**  
**Тестовые задания**

№	Вопрос	Ответ
<p>Определите один правильный ответ За каждый правильный ответ начисляется по 2 балла</p>		
1	<p>1. Вы почувствовали в квартире запах газа. По какому номеру телефона нужно вызвать специалистов по стационарному телефону? А) 03; Б) 04; В) 02.</p>	В) 02.
2	<p>Химические и биологические средства, используемые для борьбы с вредителями и болезнями растений, с сорной растительностью называются: А) тяжелые металлы; Б) удобрения; В) пестициды; Г) детергенты</p>	2) детергенты
3	<p>Какой буквой обозначается север на компасах? <input checked="" type="radio"/> А) S; Б) N; В) W; Г) E.</p>	<del>а) S</del> б) N
4	<p>Что такое эпидемия? <input checked="" type="radio"/> А) инфекционные заболевания среди людей; Б) заразные болезни среди животных; В) заразные болезни среди растений; Г) отравление вредными веществами; Д) инфекционное заболевание, переносчиком которого является большая панда (бамбуковый медведь).</p>	а) инфекционные заболевания среди людей
5	<p>Где наиболее безопасно находиться во время грозы? А) на возвышенности; Б) у входа в пещеру; В) среди невысоких деревьев с густыми кронами; Г) в скальной яме</p>	г) в скальной яме
6	<p>Какой сигнал рукой должен подать велосипедист, чтобы обозначить остановку? А) вытянутая в сторону и согнутая в локте под прямым углом вверх правая рука; Б) поднятая вверх левая или правая рука; В) руки вытянуты в стороны или подняты вверх; Г) вытянутая в сторону и согнутая в локте под прямым углом вверх левая рука</p>	а) вытянутая в сторону и согнутая в локте под прямым углом вверх правая рука
7	<p>Какого вида костра не существует?</p>	в) луга

	А) колодец; Б) шалаш; В) луна. Г) таёжный.	
8	К коллективным средствам защиты относят: А) противогазы; Б) противорадиационные укрытия; В) средства защиты кожи; Г) респираторы	а) противогазы
9	Способ передачи возбудителя гриппа: А) воздушно-капельный; Б) инъекционный; В) контактный; Г) пищевой	а) воздушно-капельный
10	Наиболее опасный вид кровотечения: А) венозное; Б) артериальное; В) капиллярное	б) артериальное
<p>Определите два правильных ответа За каждый правильный ответ начисляется по 2 балла</p>		
11	Какое положение рук поможет обеспечить личную безопасность в толпе при давке? А) руки находятся возле груди; Б) руки согнуты в локтях; В) руки находятся возле бёдер; Г) руки согнуты в кистях; Д) руки находятся в грудных карманах.	а) руки находятся возле груди. в) руки находятся возле бёдер
12	Что из перечисленного есть в углекислотном огнетушителе? А) сифон; Б) баллончик; В) распылитель; Г) запорно-пусковое устройство; Д) насадка	г) насадка а) сифон
13	Какие службы входят в систему обеспечения безопасности города: А) служба городского пассажирского транспорта; Б) служба связи и городская справочная служба; В) «скорая помощь» и служба спасения; Г) метеорологическая служба и служба охраны окружающей среды; Д) пожарная охрана и полиция.	в) скорая помощь г) пожарная охрана и полиция.
14	Лучшей защитой от смерча являются: А) подвальные помещения; Б) глубокие рвы; В) овраги и котлованы; Г) подземные сооружения; Д) верхние этажи зданий	в) овраги и котлованы а) подвальные помещения.