

525.

**ВСЕРОССИЙСКАЯ ОЛИМПИАДА ШКОЛЬНИКОВ
ПО ИСТОРИИ.**

МУНИЦИПАЛЬНЫЙ ЭТАП. 9 КЛАСС

Продолжительность: 240 минут.

В заданиях 1-3 дайте один верный ответ.

1. Какому племенному союзу, согласно летописному свидетельству, мстила княгиня Ольга за убийство мужа?

- 1) полянам
- 2) древлянам
- 3) северянам
- 4) кривичам

2. В каком году происходили описанные ниже события?

«На церковном соборе оба борца встретились и столкнулись. Скитское мирозерцание Нила все сполна было против монастырского землевладения. Его возмущали, как он писал, эти монахи, кружащиеся ради стяжаний; по их вине жизнь монашеская, некогда превозделенная, стала «мерзостной». Проходу нет от этих лжемонахов в городах и весях; домовладельцы смущаются и негодуют, видя, как бесстыдно эти «прошаки» толкуются у их дверей. Нил и стал умолять великого князя, чтобы у монастырей сел не было, а жили бы чернецы по пустыням и кормились бы своим рукоделием»

- 1) 1274 г.
- 2) 1503 г.
- 3) 1551 г.
- 4) 1666 г.

3. Кто из названных исторических деятелей был зодчим стен Белого города в Москве и Смоленской крепостной стены?

- 1) Бажен Огурцов
- 2) Иван Барма
- 3) Фёдор Конь
- 4) Постник Яковлев

Ответ

1	2	3
2 +	3 +	2

По 1 баллу за каждый верный ответ.
Всего 3 балла за задания 1-3.

25

В заданиях 4–6 выберите несколько верных ответов из предложенных.

4. Ниже приведён список названий городов. Укажите те из них, которые существовали к 1700 году.

- 1) Одесса
- 2) Петропавловск-Камчатский
- 3) Воронеж
- 4) Якутск
- 5) Тамбов
- 6) Владивосток

5. Какие из указанных терминов имеют отношение к Русской правде?

- | | |
|-----------------|----------|
| 1) вирник | 4) дьяк |
| 2) окольниковый | 5) тиун |
| 3) кормленщик | 6) закуп |

6. Какие мирные договоры были заключены в XVII в.?

- | | |
|--------------------|-------------------|
| 1) Фридрихсгамский | 4) Ясский |
| 2) Кардисский | 5) Бахчисарайский |
| 3) Рижский | 6) Столбовский |

Ответ

4	5	6
3 4 5 + + +	3 4 6 - - +	3 4 6 - - +

Всего 6 баллов за задания 4–6.

7. В приведённом ниже перечне представлены законодательные акты России XVIII–XIX вв., принятые при трех разных правителях. Запишите в верхнюю строку таблицы в бланке работы имена правителей, а в нижнюю – порядковые номера актов, появившихся при соответствующем правителе.

- 1) Учреждение об императорской фамилии
- 2) Указ об обязанных крестьянах — ПЕТР I
- 3) Манифест об упразднении Верховного Тайного совета
- 4) Манифест о трехдневной барщине
- 5) Указ «Об учреждении Депозитной кассы серебряной монеты»
- 6) Указ об упразднении губернских дворянских собраний
- 7) Указ о 25-летней службе для дворян — ПЕТР I
- 8) Указ о создании Шляхетского кадетского корпуса
- 9) Органический статут Царства Польского

Ответ

Правитель	Пётр I	Анна Иоанновна	
Номер акта	2 3 —	7 4	16.

Всего 9 баллов.

8. В приведённом ниже перечне представлены международные договоры, заключённые Россией в XVIII – первой половине XIX века. Запишите в верхнюю строку таблицы название страны, с которой был заключён договор, а в нижнюю – порядковые номера, которыми обозначены сами мирные договоры.

- 1) Бухарестский — Турция
- 2) Гюлистанский — Персия
- 3) Ункяр-Искелесийский — Турция
- 4) Гянджинский — Персия
- 5) Прутский — Турция
- 6) Абоский — Швеция
- 7) Рештский — Персия
- 8) Верельский — Швеция
- 9) Туркманчайский — Персия

Ответ:

Страна	Турция 1	Швеция 10	Персия 15
Договор	135 20	68 20	2479 20

Максимум за задание – 9 баллов.

9. По какому принципу образованы ряды? Дайте максимально точный ответ.

9.1. «Неизвестная», «Христос в пустыне», «Русалки», «Неутешное горе»

9.2. Патрик Гордон, Яков Брюс, Франц Лефорт, Андрей Остерман

Ответ

9.1. Картины художников 2 половина 19 века 10.

9.2. Сторонниками Петра I 10

По 2 балла за каждый верный ответ.

Всего 4 балла.

10. Расположите в хронологической последовательности исторические события. Ответы внесите в таблицу в бланке работы.

А) опиумные войны в Китае 1840 - 1842

Б) опубликование «95 тезисов» Мартина Лютера 1517 год

В) отмена Нантского эдикта 1685 год

Г) реставрация Мэйдзи 1600 - 1661 год 1668 - 1889

Д) сражение при Азенкуре 1415

Е) падение Бастилии 1789

Ответ

1	2	3	4	5	6
Д +	Б +	В +	Г +	Е	А +

Всего 4 балла.

20

11. Ниже приведён список названий монастырей. Расположите их в порядке основания в хронологической последовательности

- А) Александро-Невская лавра - 1710
- Б) Новоиерусалимский монастырь - 1656
- В) Троице-Сергиева лавра - 1337
- Г) Киево-Печёрская лавра - 1051
- Д) Новодевичий монастырь 1524
- Е) Соловецкий монастырь 1429

Ответ

	1	2	3	4	5	6
	Г +	В +	Е +	Д +	Б +	А +

Всего 4 балла.

4 б.

12. Установите соответствие между фамилиями писателей (поэтов) и названиями произведений, которые они создали: к каждой позиции первого столбца подберите соответствующую позицию из второго столбца.

АВТОР

ПРОИЗВЕДЕНИЕ

- | | |
|-------------------|---|
| А) А.С. Пушкин | 1) «Битва железных канцлеров» |
| Б) В.С. Пикуль | 2) «Князь Серебряный. Повесть времён Иоанна Грозного» |
| В) А.К. Толстой | 3) «Марфа-посадница» |
| Г) Н.М. Карамзин | 4) «Бородино» |
| Д) М.Ю. Лермонтов | 5) «История Пугачёва» |
| | 6) «Война и мир» |

Ответ

	А	Б	В	Г	Д
	5 +	1 +	2 +	3 +	4 +

По 1 баллу за каждое верное соответствие.

Всего 5 баллов.

5 б.

13. Установите соответствие между событиями и годами, когда они произошли. Ответы внесите в таблицу в бланке работы.

СОБЫТИЕ	ГОД
А) городская реформа Александра II	1) 1848 г.
Б) отмена подушной подати — ?	2) 1878 г.
В) раскол «Земли и воли»	3) 1864 г.
Г) создание «Бутурлинского комитета»	4) 1870 г.
Д) «дело Засулич»	5) 1887 г.
	6) 1879 г.

Ответ

А	Б	В	Г	Д
4 +	5 -	6 +	1 +	2 +

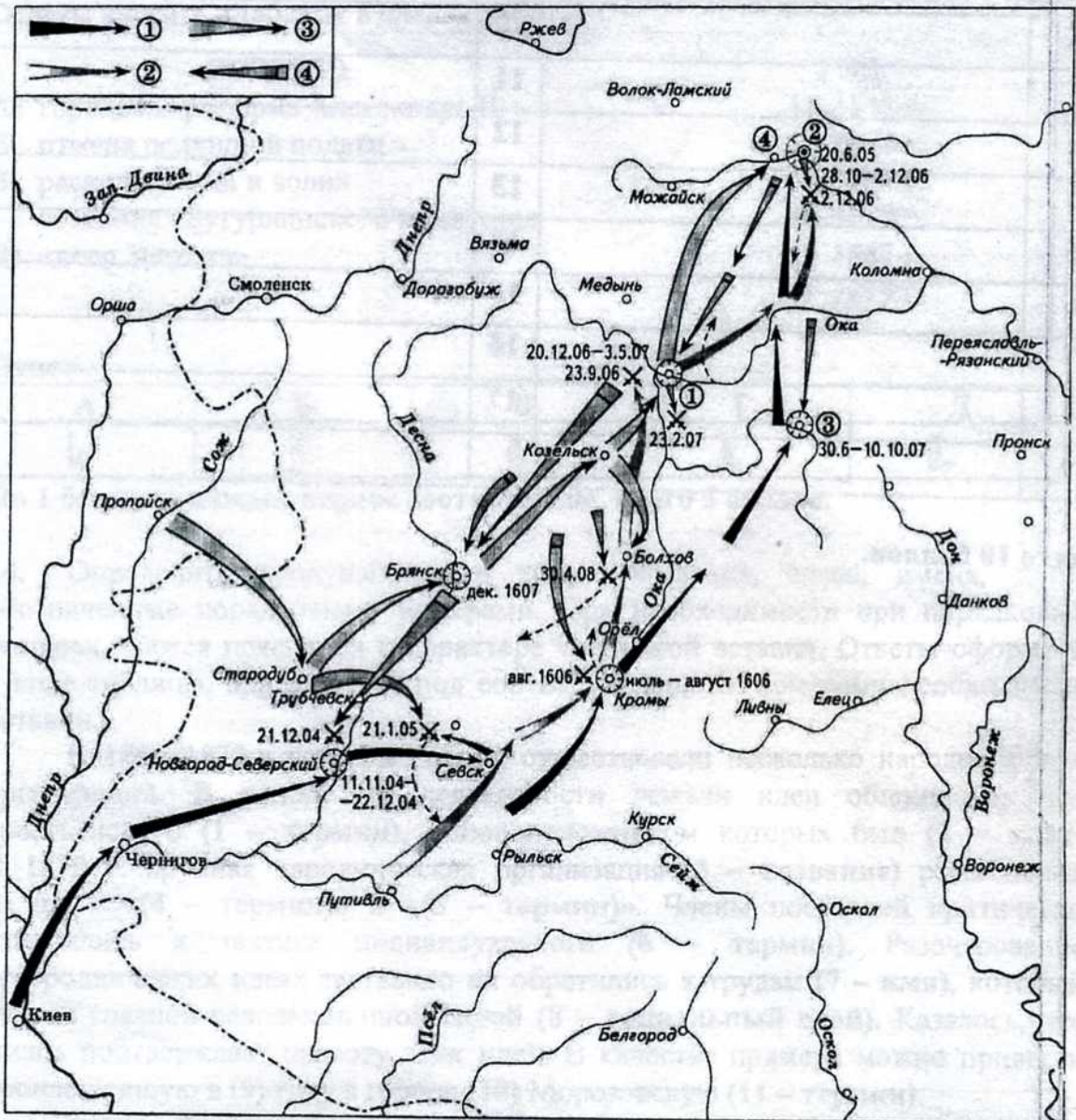
По 1 баллу за каждое верное соответствие. Всего 5 баллов.

14. Определите пропущенные в тексте названия, слова, имена, даты, обозначенные порядковыми номерами. При необходимости при порядковых номерах даются пояснения о характере требуемой вставки. Ответы оформите в виде таблицы, вписав в неё под соответствующими номерами необходимые вставки.

В 1860–1870-х годах в России существовали несколько народнических организаций. В основе их деятельности лежали идеи общинного, или крестьянского (1 – термин), основоположником которых был (2 – имя). В 1879 г. крупная народническая организация (3 – название) раскололась на две – «(4 – термин)» и «(5 – термин)». Члены последней критически относились к тактике индивидуального (6 – термин). Разочарование в народнических идеях заставило их обратиться к трудам (7 – имя), который считал главной революционной силой (8 – социальный слой). Казалось, что жизнь подтверждает правоту этих идей. В качестве примера можно привести произошедшую в (9) году в городе (10) Морозовскую (11 – термин).

Затем бывшие народники, спасаясь от преследований, выехали за границу. Здесь, в (12 – название страны), в (13) году возникла состоявшая из (14) человек первая группа русских социал-демократов. Она получила название (15), а её лидером стал (16). Через (17) лет в Петербурге и ряде других городов возникли союзы борьбы за освобождение рабочего класса.

15. Внимательно рассмотрите карту и выполните задания, помещённые ниже.



15.1. Напишите имя царя, при котором начались обозначенные на карте события.

Ответ: Василий Шуйский

1 балл.

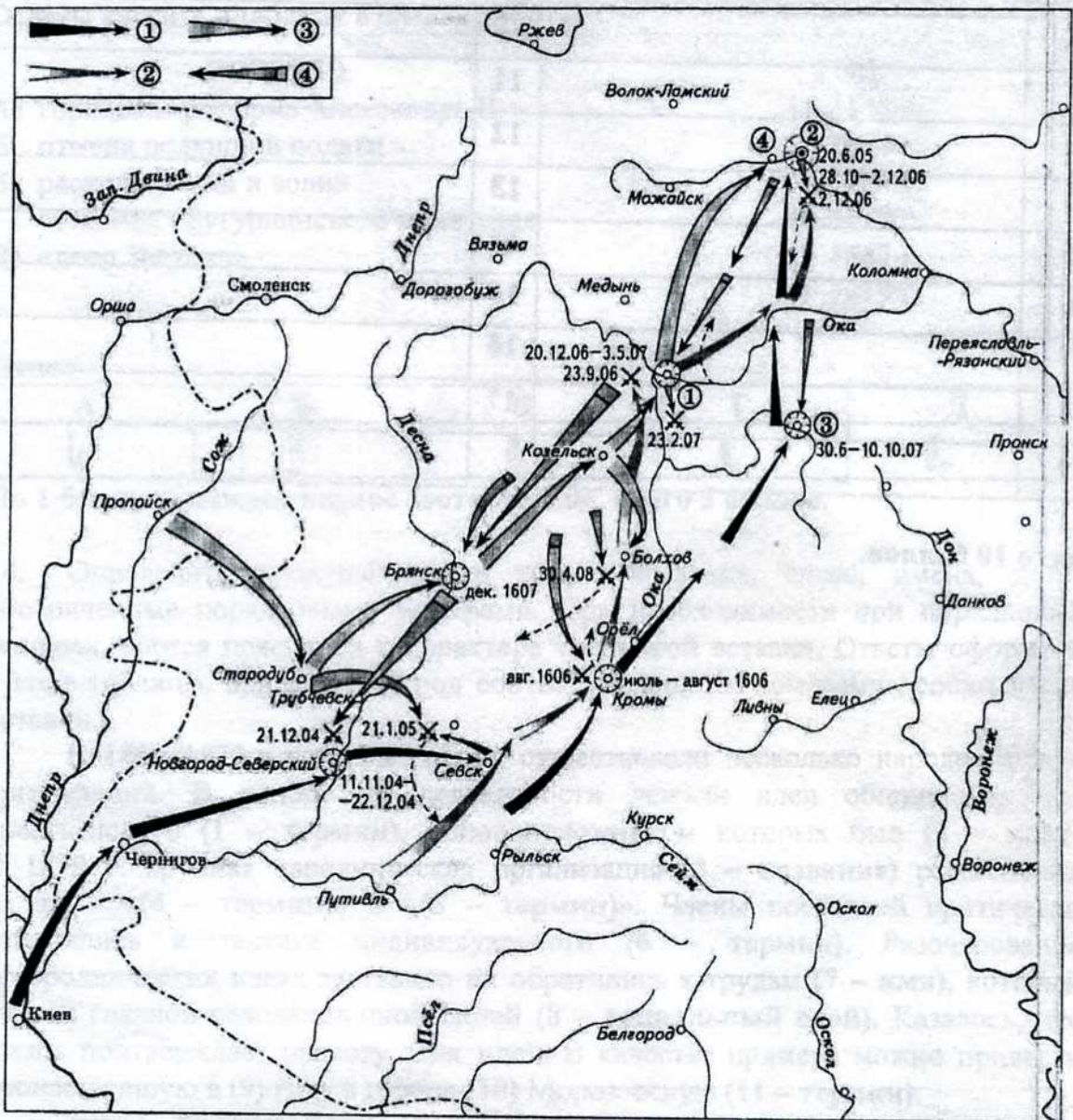
15.2. Напишите цифру, которой в легенде обозначен поход, закончившийся пленением его руководителя в Туле.

Ответ: 3

1 балл.

15.3. Напишите имя исторического деятеля, поход которого в Россию начинается с берегов реки Сож.

15. Внимательно рассмотрите карту и выполните задания, помещённые ниже.



15.1. Напишите имя царя, при котором начались обозначенные на карте события.

Ответ: Василий Шуйский

1 балл.

15.2. Напишите цифру, которой в легенде обозначен поход, закончившийся пленением его руководителя в Туле.

Ответ: 3

1 балл.

15.3. Напишите имя исторического деятеля, поход которого в Россию начинается с берегов реки Сож.

Ответ: Ершак 0

1 балл.

15.4. Напишите название населённого пункта, обозначенного цифрой 1.

Ответ: Муром

1 балл.

15.5. Верны ли представленные ниже утверждения («Да» – «Нет»)? Ответы оформите в виде таблицы.

1) Исторического деятеля, поход которого обозначен в легенде цифрой 1, летом 1606 г. «признала» своим сыном Мария Нагая. Нет

2) Войска, действия которых обозначены цифрой 4, были направлены в поход Лжедмитрием I. Нет

3) В трёх из обозначенных на карте походов принимал участие князь Дмитрий Пожарский. Нет

4) На карте есть дата генерального сражения войск Ивана Болотникова с царскими войсками. Да

5) В походе, обозначенном цифрой 4, принимал участие князь, ставший затем главой Семибоярщины. Да

Ответ:

1	2	3	4	5
<u>Нет</u>	<u>Нет</u>	<u>Нет</u>	<u>Да</u>	<u>Да</u>

25.


По 2 балла за каждый верный ответ, всего 10 баллов.

Всего 14 баллов.

16. Перед Вами картины на исторические сюжеты, принадлежащие кисти одного и того же художника. Расположите номера картин в хронологическом порядке отражённых на них событий и напишите, какое событие отражено на каждой иллюстрации. Назовите фамилию художника, кисти которого принадлежат эти картины. Будьте внимательны: ОДНО изображение лишнее. Укажите его номер, назовите событие, изображённое на нём, а также фамилию художника, кисти которого принадлежит эта картина.



1)



2)

Мемор еше
Ершакон
сибири
1895 год

15.1. Царство мое имя при котором начался обречение на
содание
Отец: Давыд Иванович
1 баба
15.2. Не знаю отца, который в семье обреченного, законного
членом его рождением в Туле.
Отец: Д
1 баба
15.3. Наречено имя исторического деятеля, повод которого в Р
милосердия о берегах реки Сож.



Миролюбивый Божий
В. С. Мерлов
1879 год


3)



Город Стрелецкой
казни

1881

4)



1887

5)



1899 год

6)

Ответ

№ изображения	Событие
1	Меньшиков в Березове 1883 +
2	Покорение Ермаком Сибири 1895 +
4	Утро стрелецкой казни 1881 +
5	Бойкотия Морозова 1887 +
6	Переход Суворова через Альпы 1899 +

ХУДОЖНИК: Василий Иванович Суриков + 2

Хронология - 20

«Лишнее» изображение: 3. Пугачевский суд, автор В. Г. Титов
18792 10

Всего 12 баллов.

17. Одна из самых важных сторон деятельности историка – анализ источника, умение извлечь из него необходимую информацию. Перед Вами фрагменты «Наказа», составленного Екатериной II. Напишите на их основе небольшую работу «Идейная основа государственных воззрений Екатерины II периода начала её правления».

«19. <...> Государь есть источник всякие государственные и гражданские власти.

20. Законы, основание державы составляющие, предполагают малые протоки, сиречь правительства, чрез которые изливается власть Государева.

21. Законы <...> – несомненно суть делающие твёрдым и неподвижным установление всякого государства.

240. Гораздо лучше предупреждать преступления, нежели наказывать.

241. Предупреждать преступления есть намерение и конец хорошего законоположничества, которое не что иное есть, как искусство приводить людей к самому совершенному благу или оставлять между ними, если всего искоренить нельзя, самое малейшее зло.

243. Хотите ли предупредить преступления? Сделайте, чтоб законы меньше благодетельствовали разным между гражданами чинам, нежели всякому особо гражданину.

244. Сделайте, чтоб люди боялися законов, и никого бы кроме их не боялися.

245. Хотите ли предупредить преступления? Сделайте, чтобы просвещение распространилось между людьми.

246. Книга добрых законов не что иное есть, как недопущение до вредного своевольтва причинять зло себе подобным.

247. Ещё можно предупредить преступление награждением добродетели.

248. Наконец, самое надёжное, но и самое труднейшее средство сделать людей лучшими есть приведение в совершенство воспитания.

513. Самое высшее искусство государственного управления состоит в том, чтобы точно знать, какую часть власти, малую ли или великую, употребить должно в разных обстоятельствах; ибо в самодержавии благополучие правления состоит отчасти в кротком и снисходительном правлении».

План работы:

1. Характеристика документа. Опираясь на свои знания по истории, ответьте на вопросы: Когда был создан «Наказ»? Для членов какого учреждения он предназначался? Какова была историческая судьба данного учреждения?