

470. Делу

8-2

Всероссийская олимпиада школьников по ОБЖ  
Муниципальный этап. 7-8 классы

Таблица ответов на тестовые задания теоретического тура

| Номер теста | Верный ответ | Номер теста | Верный ответ |
|-------------|--------------|-------------|--------------|
| 1           | в            | 11          | а, д         |
| 2           | в            | 12          | б, в         |
| 3           | а            | 13          | а, в         |
| 4           | в            | 14          | а, г         |
| 5           | б            | 15          | б, в         |
| 6           | б            | 16          | а, в         |
| 7           | в            | 17          | а, б         |
| 8           | а            | 18          | в, г         |
| 9           | г            | 19          | б, в         |
| 10          | г            | 20          | б, в, г      |

Максимум за тестовые задания 60 баллов.

30

### Теоретические задания

#### Задание 1






Перечислите, состоящие из десяти пунктов, рекомендации полиции, которые помогут уберечься от воров-карманников.

- 1) Вещи имеющие большую ценность, убрать в внутреннюю карманную сумку
- 2) При входе в магазин или супермаркет, проверить карманы
- 3) Везде возмещать карманы
- 4) Брать вещи только в магазине
- 5) Быть внимательным к своим вещам
- 6) Везде закрывать карманы сумки
- 7) Если чувствуется, что кто-то пытается украсть, нужно сразу позвать на помощь
- 8) Быть внимательным к своим вещам
- 9) При покупке вещей обращать внимание на цену
- 10) Соблюдать все требования

2

**Задание 2**

Укажите знаком «+» в крайнем левом или крайнем правом столбце, какие из ситуаций, изображённых на картинках, относятся к опасным, а какие к экстремальным?

| Опасная ситуация | Изображение   | Экстремальная ситуация |
|------------------|---|------------------------|
| +                |    |                        |
| +                |   |                        |
|                  |  | +                      |
| +                |  |                        |
|                  |  | +                      |

+

+

+

6

### Задание 3

Перечислите, состоящие из пяти пунктов, предупредительные инженерные мероприятия по защите от наводнений во время весеннего половодья.

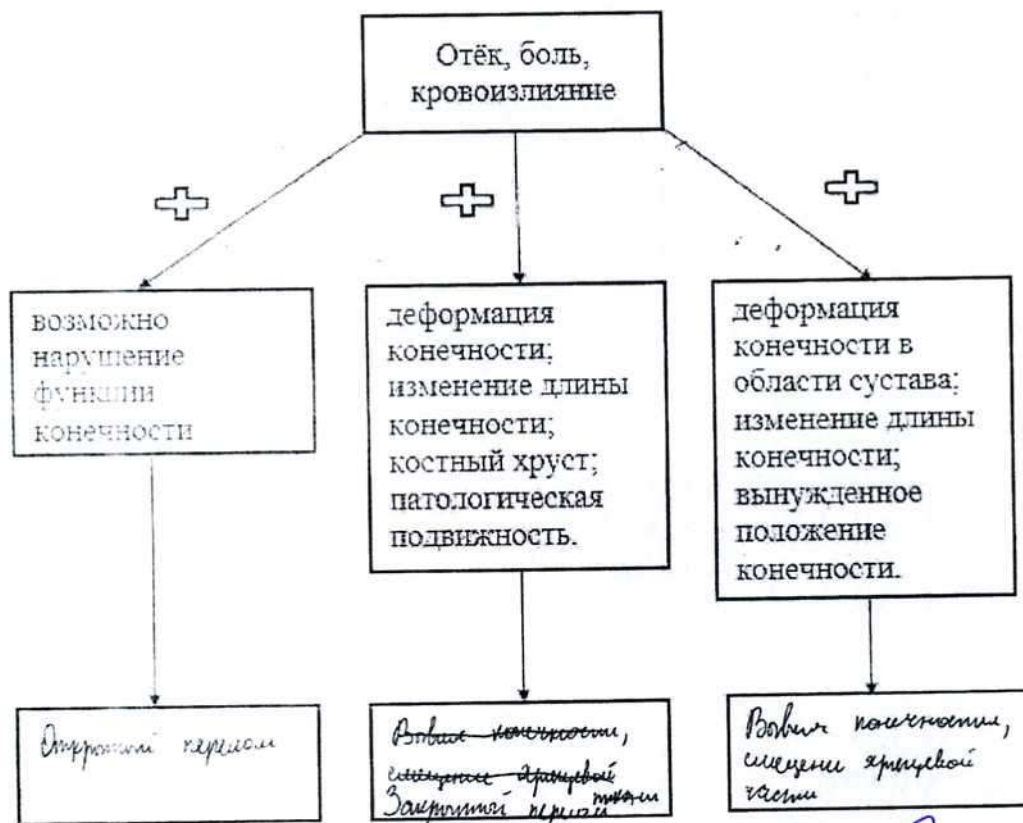
- 1) При половодье, нужно забрать все ценные вещи и имущество (вздрючить и вынести).
- 2) Если нет возможности, то <sup>как</sup> для электротехники.
- 3) При замечении или при его начале и т.д. - эвакуироваться.
- 4) Убрать все технические приборы и вещи.
- 5) Соблюдать все требования.

0

### Задание 4

Травмы конечностей встречаются достаточно часто. Общими их признаками являются отёк, боль, кровоизлияние.

А. Дополните схему. Укажите, какие повреждения можно заподозрить у пострадавшего, если к указанным признакам присоединяется ряд других признаков.



Б. При травмах конечностей применяется иммобилизация.

Укажите, какое количество суставов необходимо зафиксировать при переломе (вывихе)

1. предплечья и голени
2. плеча и бедра.

1) 2-3 сустава  
2) 5 суставов

Максимум за работу – 100 баллов.

3