

Таблица ответов на тестовые задания теоретического тура

Номер теста	Верный ответ	Номер теста	Верный ответ
1	Б +	11	АД + -
2	А -	12	БГ ++
3	Г +	13	БВ - +
4	А +	14	АГ + -
5	Б +	15	АВ + -
6	Б +	16	АВД -
7	В -	17	А +
8	В +	18	ГД + -
9	В -	19	АВ ++
10	Г +	20	ВГД -

Максимум за тестовые задания 60 баллов.

14

18

325
125

Теоретические задания

Задание 1







Перечислите, состоящие из десяти пунктов, рекомендации безопасного поведения при общении с незнакомыми людьми.





- 1) Не вступать в разговор на улице с незнаком-
цем +
- 2) Не садиться в машину к незнакомому
человеку +
- 3) Будьте наблюдательны +
- 4) Не ходите с незнакомыми людьми в
март +
- 5) Избегайте общение с пьяным человеком +
- 6) Избегайте больших скопления людей.

5

Задание 2

Впишите в таблицу смысловое значение знаков безопасности.

Запрещающий знак	Смысловое значение запрещающего знака
	ЗАПРЕЩАЕТСЯ ЗАПРОМОЖДАТЬ ПРОХОДЫ +
	ОПАСНО. ЕЖИЧЬИ ВЕЩЕСТВА. +
	
	
	
	Осторожно. Холод +

	<p>НЕ ПЕЙТЕ.</p> <p>+</p>
	
	
	<p>ПОЖАРНЫЙ ВОДОСТОЯЩИК</p> <p>+</p> <p>5</p>

Задание 3

Укажите войсковые воинские звания высших офицеров Вооружённых Сил Российской Федерации и расположите их в порядке возрастания старшинства.

1 Полковник, генерал-майор, м. лейтенант, лейтенант,
ст. лейтенант, прапорщик, старшина,
м. лейтенант, лейтенант, ст. лейтенант,
майор, капитан, подполковник, полковник,
генерал-полковник, маршал 1

2

Задание 4

Инфекционные болезни – это заболевания, вызываемые болезнетворными микроорганизмами, которые передаются от заражённого человека или животного к здоровому. Способ перемещения возбудителя инфекционного заболевания от источника инфекции в восприимчивый организм человека или животного называется механизмом передачи инфекции. Механизм передачи может быть реализован различными путями.

Заполните таблицу.

А) Дополните столбцы таблицы («Локализация возбудителя», «Механизм передачи инфекции», «Пути передачи инфекции») соответствующей информацией.

Б) Внесите номер инфекционного заболевания в зависимости от локализации возбудителя из предложенного ниже перечня в столбец таблицы «Номер инфекционного заболевания».

Инфекционные заболевания:

1. Грипп
2. Дизентерия
3. Микоз поверхностный
4. Клещевой энцефалит

Локализация возбудителя	Механизм передачи инфекции	Пути передачи инфекции	Номер инфекционного заболевания
1. Желудочно-кишечный тракт	Фекально-оральный (желудочно-кишечный)		
2. Дыхательная система		1. Капельный Пылевой	
	Трансмиссивный	Укусы кровососущих насекомых	
4. Кожа и слизистые оболочки		1. Прямой 2. Непрямой	

Максимальная оценка за работу – 100 баллов.